

## Gruppe 6

# Stadtrallye Kehl



Willkommen in



In diesem Dokument findet ihr einen Stadtplan von Kehl und einen Fragebogen. Ihr müsst den Fragebogen mit Hilfe des Plans beantworten. Die Fragen, die euch gestellt werden betreffen die Zone, die auf eurem Stadtplan eingekreist ist. Ihr braucht die Fragen nicht in der Reihenfolge zu beantworten. Die Gruppe, die die größte Punktzahl hat, hat gewonnen. Wenn mehrere Gruppen die gleiche Punktzahl haben dann gewinnt die schnellste Mannschaft. Manchmal findet ihr die Antwort auf einem Gebäude, oder auf einem Schild. Manchmal steht die Antwort nirgendwo, und ihr müsst jemandem die Frage stellen!

**Achtung!**



Um diese Rallye zu machen habt ihr eine Stunde! Nach einer Stunde treffen wir uns alle wieder auf dem Marktplatz.

Bleibt immer in Gruppen!

Passt auf die Autos auf!

Falls ihr ein Problem habt, könnt ihr zum Marktplatz zurückkommen!

## Kehler Stadtrallye

**1 .Geht jetzt links die Straße hinauf bis zur Hauptstraße 80.      2 Punkte**

a. Wie heißt das Gebäude, das sich hier befindet? Tragt den Namen hier unten in die Tabelle ein.

--	--	--	--	--	--	--	--	--

b. Links dieses Gebäudes ist ein Geschäft. Es steht genau an der Straßenecke. Was kannst du hier kaufen?

.....


**2. Geht jetzt zur Hauptstraße 95,      2 Punkte**

Dort seht ihr ein Gebäude, wo ihr eure Briefe senden könnt.

a. Wie heißt dieses Gebäude?

.....

b. Zeichnet das Symbol dieses Gebäudes in den Rahmen.



**3. Geht nun zum Rathaus. 4 Punkte**

a. Findet die Adresse des Rathauses und schreibt sie hier unten auf.

.....

b. Seit wann ist das Gebäude ein Rathaus?

.....

c. Findet das Wappen<sup>1</sup> der Stadt Kehl und zeichnet es im Rahmen nach.



d. Neben dem Rathaus steht dieses Schild.  
Findet es und sagt was das für ein Schild ist.



.....

---


<sup>1</sup> Le blason

#### 4. Die Polizei

2 Punkte

**Geht jetzt bis zur Polizei, Herderstraße 1.**

a. Zeichnet das Wappen, das am Eingang des Gebäudes hängt.



b. Dieses Wappen ist das Symbol des Bundeslandes in dem sich Kehl befindet.

Wie heißt dieses Bundesland? (und vergiss nicht, ihr könnt jemandem die Frage stellen).

.....

## 5. Geht jetzt in die Fußgängerzone.

5 Punkte

Was ist das für ein Schild? Fragt danach und schreibt den Namen hier unten auf (ein Buchstaben pro Kästchen).

a.



--	--	--	--	--	--	--	--	--	--	--	--	--	--	--

b. Wer darf hier fahren?

.....

.....



c. In der Fußgängerzone befindet sich diese Drehscheibe<sup>2</sup> (ein Karussell):



Findet dieses Objekt und sagt vor welchem Gebäude es sich befindet. Schreibt den Namen hier unten auf.

--	--	--	--	--	--	--	--	--

d. Was symbolisiert dieses Objekt?

.....


---

<sup>2</sup> Le tourniquet



e. In der Fußgängerzone findet ihr auch irgendwo dieses Symbol. Welchem Geschäft entspricht dieses Symbol?

Schreibt den Namen hier unten auf.



--	--	--	--	--	--	--	--



## 6. Auf dem Marktplatz

5 Punkte

a. Welche Kirche befindet sich hier? Wie heißt sie?

.....

b. Gegenüber<sup>3</sup> der Kirche steht ein Denkmal<sup>4</sup> mit einer Statue.

---

<sup>3</sup> En face de

<sup>4</sup> Un monument

- Wie heißt diese Statue?

.....

- War diese Statue schon immer da?

.....

c. Was ist das für ein Symbol?



.....

d. Dieses Photo wurde während dem Wochenmarkt genommen.

Wann ist in Kehl Wochenmarkt? Stellt jemandem die Frage.

.....



Wenn ihr mit dem Rallye fertig seid,  
könnt wieder zum Treffpunkt  
zurückkehren!

Ankunftszeit: .....

ENDERGEBNIS

/20

Und zurück zur Schule!

